

Тренируемся считать до 10.  
Впиши пропущенные цифры.

Дата: \_\_\_\_\_

Имя: \_\_\_\_\_

|   |  |   |  |   |  |   |   |  |    |
|---|--|---|--|---|--|---|---|--|----|
| 1 |  | 3 |  | 5 |  | 7 | 8 |  | 10 |
|---|--|---|--|---|--|---|---|--|----|

|  |   |   |  |   |  |  |   |  |  |
|--|---|---|--|---|--|--|---|--|--|
|  | 2 | 3 |  | 5 |  |  | 8 |  |  |
|--|---|---|--|---|--|--|---|--|--|

|   |  |  |   |  |   |   |  |   |    |
|---|--|--|---|--|---|---|--|---|----|
| 1 |  |  | 4 |  | 6 | 7 |  | 9 | 10 |
|---|--|--|---|--|---|---|--|---|----|

|  |  |   |   |  |  |  |   |  |  |
|--|--|---|---|--|--|--|---|--|--|
|  |  | 3 | 4 |  |  |  | 8 |  |  |
|--|--|---|---|--|--|--|---|--|--|

|    |  |   |  |   |  |   |  |   |  |
|----|--|---|--|---|--|---|--|---|--|
| 10 |  | 8 |  | 6 |  | 4 |  | 2 |  |
|----|--|---|--|---|--|---|--|---|--|

|  |   |   |  |  |   |  |  |  |   |
|--|---|---|--|--|---|--|--|--|---|
|  | 9 | 8 |  |  | 5 |  |  |  | 1 |
|--|---|---|--|--|---|--|--|--|---|

|    |  |  |   |  |  |  |  |   |  |
|----|--|--|---|--|--|--|--|---|--|
| 10 |  |  | 7 |  |  |  |  | 2 |  |
|----|--|--|---|--|--|--|--|---|--|

Тренируемся считать до 20.  
Впиши пропущенные цифры.

Дата: \_\_\_\_\_

Имя: \_\_\_\_\_

|    |  |    |   |    |   |    |   |   |    |
|----|--|----|---|----|---|----|---|---|----|
| 1  |  |    | 4 |    | 6 |    | 8 | 9 |    |
| 11 |  | 13 |   | 15 |   | 17 |   |   | 20 |

|  |    |   |  |   |    |  |  |    |    |
|--|----|---|--|---|----|--|--|----|----|
|  | 2  | 3 |  | 5 |    |  |  |    | 10 |
|  | 12 |   |  |   | 16 |  |  | 19 |    |

|   |    |   |    |  |  |   |  |   |    |
|---|----|---|----|--|--|---|--|---|----|
| 1 |    | 3 |    |  |  | 7 |  | 9 |    |
|   | 12 |   | 14 |  |  |   |  |   | 20 |

|    |  |   |  |   |    |    |   |  |    |
|----|--|---|--|---|----|----|---|--|----|
|    |  | 3 |  | 5 |    |    | 8 |  | 10 |
| 11 |  |   |  |   | 16 | 17 |   |  |    |

Продолжи счет.  
Впиши пропущенные числа.

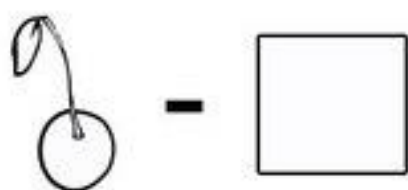
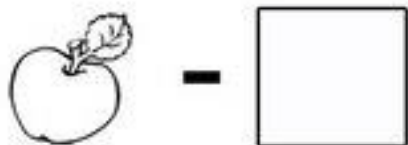
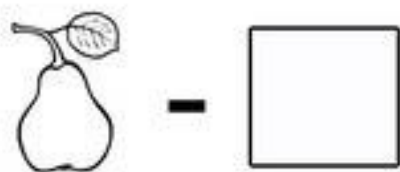
Дата: \_\_\_\_\_

Имя: \_\_\_\_\_

|  |   |  |   |   |   |   |  |   |   |
|--|---|--|---|---|---|---|--|---|---|
|  | 2 |  | 4 |   |   | 7 |  | 9 |   |
|  | 9 |  |   | 6 | 5 |   |  |   | 1 |

|    |  |   |   |   |  |   |   |   |  |
|----|--|---|---|---|--|---|---|---|--|
| 1  |  |   | 4 | 5 |  |   | 8 |   |  |
| 10 |  | 8 |   | 6 |  | 4 |   | 2 |  |

Нарисуй, что должно быть в пустой клетке. Сосчитай сколько всего:



|  |  |  |
|--|--|--|
|  |  |  |
|  |  |  |
|  |  |  |

Продолжи счет.  
Впиши пропущенные числа.

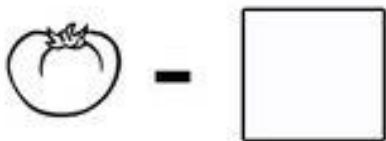
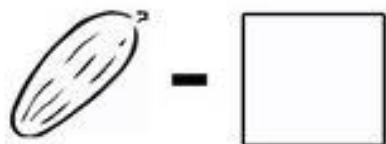
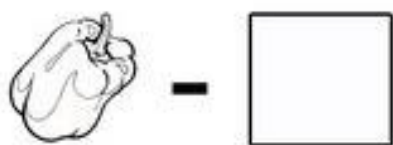
Дата: \_\_\_\_\_

Имя: \_\_\_\_\_

|    |  |   |   |   |   |   |   |  |    |
|----|--|---|---|---|---|---|---|--|----|
| 1  |  | 3 |   | 5 | 6 |   | 8 |  | 10 |
| 10 |  | 8 | 7 |   |   | 4 | 3 |  |    |

|  |   |   |  |   |   |   |  |   |   |
|--|---|---|--|---|---|---|--|---|---|
|  | 2 | 3 |  |   |   | 7 |  | 9 |   |
|  | 9 |   |  | 6 | 5 |   |  |   | 1 |

Нарисуй, что должно быть в пустой клетке. Сосчитай сколько всего:



|  |  |  |
|--|--|--|
|  |  |  |
|  |  |  |
|  |  |  |

|   |  |   |
|---|--|---|
| 4 |  | 6 |
|---|--|---|

|    |  |    |
|----|--|----|
| 12 |  | 14 |
|----|--|----|

|    |    |  |
|----|----|--|
| 18 | 19 |  |
|----|----|--|

|   |  |   |
|---|--|---|
| 7 |  | 9 |
|---|--|---|

|    |    |  |
|----|----|--|
| 15 | 16 |  |
|----|----|--|

|  |    |  |
|--|----|--|
|  | 15 |  |
|--|----|--|

|   |    |  |
|---|----|--|
| 9 | 10 |  |
|---|----|--|

|  |    |  |
|--|----|--|
|  | 18 |  |
|--|----|--|

|    |  |    |
|----|--|----|
| 17 |  | 19 |
|----|--|----|

|  |   |    |
|--|---|----|
|  | 9 | 10 |
|--|---|----|

|    |  |    |
|----|--|----|
| 11 |  | 13 |
|----|--|----|

|    |  |    |
|----|--|----|
| 18 |  | 20 |
|----|--|----|

Напиши соседние числа.

|  |   |  |
|--|---|--|
|  | 9 |  |
|--|---|--|

|  |    |  |
|--|----|--|
|  | 10 |  |
|--|----|--|

|  |    |  |
|--|----|--|
|  | 11 |  |
|--|----|--|

|  |    |  |
|--|----|--|
|  | 12 |  |
|--|----|--|

|  |    |  |
|--|----|--|
|  | 14 |  |
|--|----|--|

|  |    |  |
|--|----|--|
|  | 19 |  |
|--|----|--|

|  |   |  |
|--|---|--|
|  | 7 |  |
|--|---|--|

|  |   |  |
|--|---|--|
|  | 5 |  |
|--|---|--|

|  |    |  |
|--|----|--|
|  | 16 |  |
|--|----|--|

Впиши пропущенные числа

Дата: \_\_\_\_\_

Имя: \_\_\_\_\_

|  |    |  |
|--|----|--|
|  | 17 |  |
|--|----|--|

|    |  |    |
|----|--|----|
| 14 |  | 16 |
|----|--|----|

|  |    |  |
|--|----|--|
|  | 10 |  |
|--|----|--|

|   |  |    |
|---|--|----|
| 9 |  | 11 |
|---|--|----|

|    |  |    |
|----|--|----|
| 18 |  | 20 |
|----|--|----|

|  |    |  |
|--|----|--|
|  | 13 |  |
|--|----|--|

|  |    |  |
|--|----|--|
|  | 19 |  |
|--|----|--|

|  |   |  |
|--|---|--|
|  | 5 |  |
|--|---|--|

|  |    |  |
|--|----|--|
|  | 18 |  |
|--|----|--|

|   |  |    |
|---|--|----|
| 8 |  | 10 |
|---|--|----|

|  |    |  |
|--|----|--|
|  | 15 |  |
|--|----|--|

|    |  |    |
|----|--|----|
| 10 |  | 12 |
|----|--|----|

|  |    |  |
|--|----|--|
|  | 16 |  |
|--|----|--|

|    |  |    |
|----|--|----|
| 12 |  | 14 |
|----|--|----|

|   |  |   |
|---|--|---|
| 7 |  | 9 |
|---|--|---|

|    |  |    |
|----|--|----|
| 17 |  | 19 |
|----|--|----|

|  |    |  |
|--|----|--|
|  | 13 |  |
|--|----|--|

|  |    |  |
|--|----|--|
|  | 19 |  |
|--|----|--|

|    |  |    |
|----|--|----|
| 15 |  | 17 |
|----|--|----|

|  |   |  |
|--|---|--|
|  | 6 |  |
|--|---|--|

|    |  |    |
|----|--|----|
| 16 |  | 18 |
|----|--|----|

|  |    |  |
|--|----|--|
|  | 11 |  |
|--|----|--|

|  |    |  |
|--|----|--|
|  | 18 |  |
|--|----|--|

|  |    |  |
|--|----|--|
|  | 14 |  |
|--|----|--|

Напиши соседние числа

Дата: \_\_\_\_\_

Имя: \_\_\_\_\_

|  |   |  |
|--|---|--|
|  | 5 |  |
|--|---|--|

|  |   |  |
|--|---|--|
|  | 3 |  |
|--|---|--|

|  |   |  |
|--|---|--|
|  | 6 |  |
|--|---|--|

|  |   |  |
|--|---|--|
|  | 2 |  |
|--|---|--|

|  |   |  |
|--|---|--|
|  | 8 |  |
|--|---|--|

|  |   |  |
|--|---|--|
|  | 4 |  |
|--|---|--|

|  |   |  |
|--|---|--|
|  | 7 |  |
|--|---|--|

|  |   |  |
|--|---|--|
|  | 9 |  |
|--|---|--|

|  |   |  |
|--|---|--|
|  | 1 |  |
|--|---|--|

Поставь знак  $>$ ,  $<$  или  $=$ .

|   |   |
|---|---|
| 1 | 3 |
|---|---|

|   |   |
|---|---|
| 8 | 8 |
|---|---|

|   |   |
|---|---|
| 4 | 9 |
|---|---|

|   |   |
|---|---|
| 7 | 2 |
|---|---|

|   |   |
|---|---|
| 9 | 6 |
|---|---|

|   |   |
|---|---|
| 5 | 6 |
|---|---|

|   |   |
|---|---|
| 2 | 1 |
|---|---|

|   |   |
|---|---|
| 8 | 3 |
|---|---|

|   |   |
|---|---|
| 4 | 4 |
|---|---|

|   |   |
|---|---|
| 2 | 8 |
|---|---|

|   |   |
|---|---|
| 4 | 7 |
|---|---|

|   |   |
|---|---|
| 1 | 8 |
|---|---|

|    |   |
|----|---|
| 10 | 3 |
|----|---|

|   |   |
|---|---|
| 6 | 6 |
|---|---|


|   |    |
|---|----|
| 9 | 10 |
|---|----|

|   |   |
|---|---|
| 5 | 2 |
|---|---|

Используй знаки + - = > <.  
Напиши нужные знаки  
в кружочках.

Дата: \_\_\_\_\_

Имя: \_\_\_\_\_



7  2 =  5

1 +  8  9

3  3 =  6

5  1 =  4

